

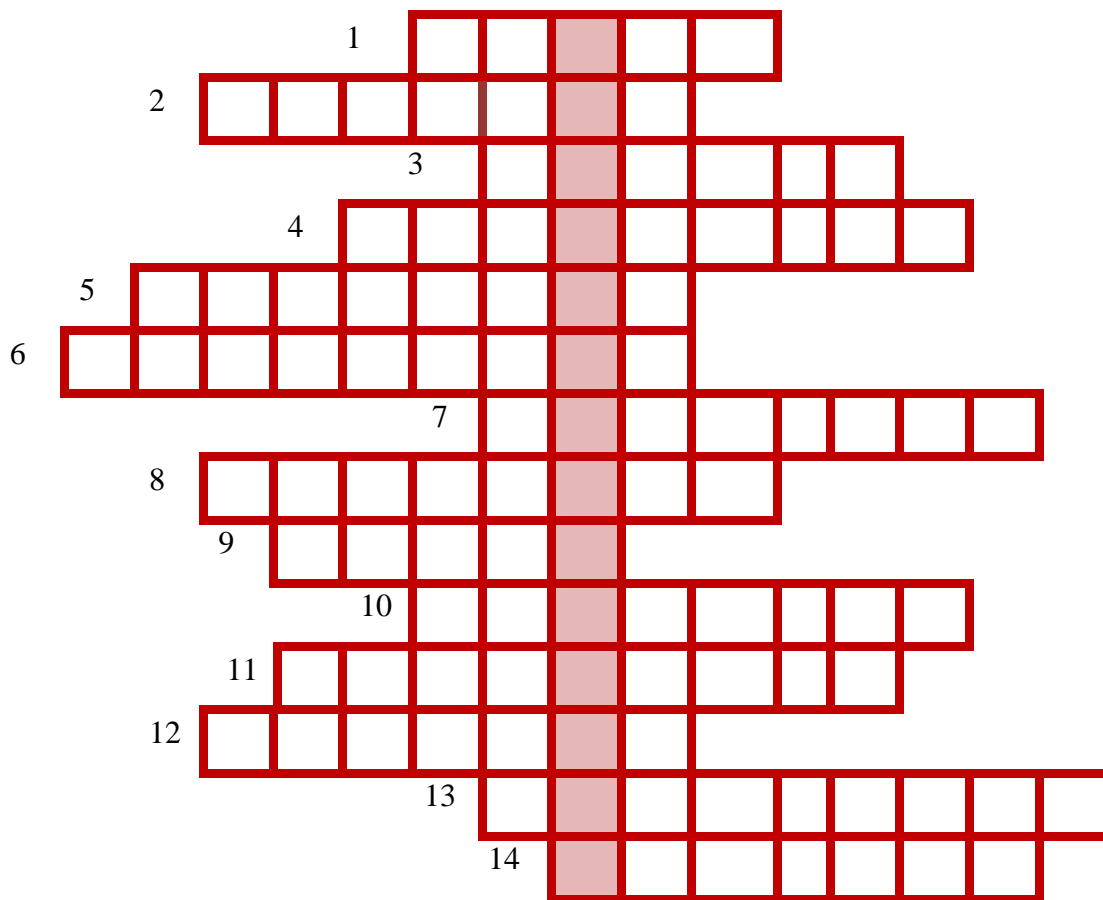
Név: \_\_\_\_\_

Iskola: \_\_\_\_\_ **ö: 50p/**

**1. Minerológiai és petrológiai érdekességek.**

**16p/**

Fejtsd meg a rejtvény vízszintes sorait és a fősört!



1. Neve egy a Vörös-tengerben található mitológiai sziget zöld kövére utal, acéllal szikrázó, a Mohs-skálán 8-as keménységű drágakő
2. Nevét az Andok-hegységről kapta. Vulkáni kiömlési kőzet.
3. Neve latinul szemcsét jelent. Mélységi magmás kőzet.
4. Megkövesedett gyanta, organikus eredetű ékszerként használják.
5. Vulkáni tufa, amely úszik a víz tetején. Habkőként a drogériákban is kapható.
6. Átalakult kőzet, régen az iskolákban erre írtak a diákok.
7. Szepiolit. Könnyen faragható, nagyon szép motívumú pipákat készítettek belőle.
8. Neve görögül nem részegítőt jelent. A kvarc ibolyaszínű változata.
9. Körömmel karcolható, gyógyászatban használják. Változata az alabástrom.
10. Feketeszínű legjobb minőségű szén.

11. Kagylóstörése miatt éles vulkáni üveg. Féldrágakő is.

12. Típusai: físztula, sztalaktit, sztalagmit, sztalagnát.

13. Szibériában nagy lemezeiből már régóta készítettek ablaktáblákat a hajóknak és templomoknak.

14. Metemorf kőzet. A szobrászatban évszázadok óta nagyon kedvelték.

Mit jelent a fősor megoldása?.....

.....  
.....

## 2. „Fekete Afrika”

14p/

Nevezd meg a térképen jelölt természetföldrajzi tájakat!

A.....

B.....

C.....

D.....

E.....

F.....

G.....

H.....

Milyen a D betűvel jelölt folyó torkolata?

.....

Keletkezés alapján milyen tó típusba tartozik az F jelű tó?

.....

Melyik területet nevezik „Afrika szarvának”?

.....

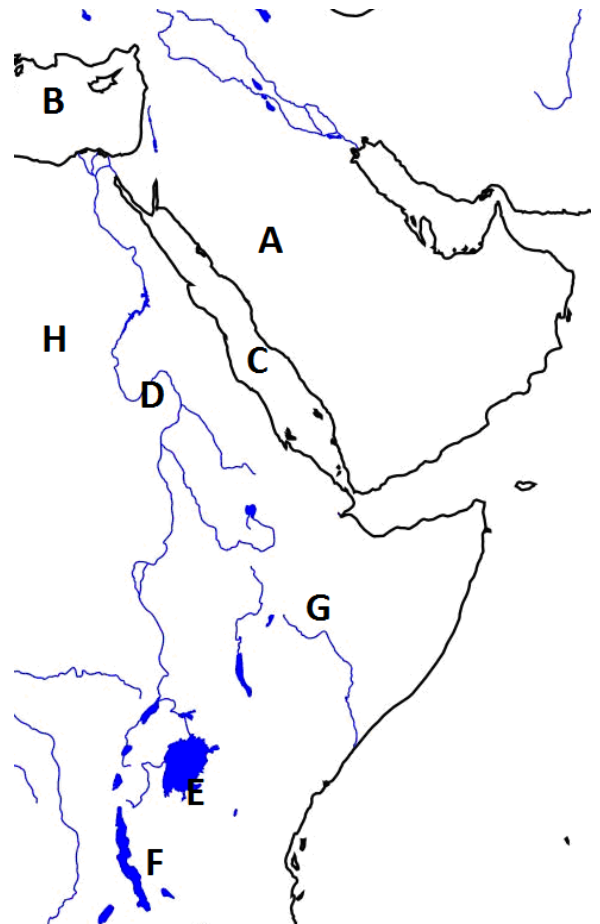
Írd be ezt a területet a térkép megfelelő helyére!

A térség melyik államára igazak az állítások?

a, Itt található a Teleki-vulkán, a Rudolf-tó és a Stefánia-tó

.....

b, Része az Afar-háromszög, ahol kezdődik a riftesedés, de a Kávé őshazája is.....




## 3. „Képes geomorfológia”

13p/

Párosítsd a képeket a fogalmakkal! A kiválasztott fogalmak számát írd a megfelelő kép alá! Egy képhez több fogalom is kerülhet, de vannak kakukktójás fogalmak is!

- Fogalmak :1. sztratovulkán, 2. deflációs kapu, 3. tengerszem, 4. turzás, 5. gleccser, 6. abráziós torony, 7. kőfolyás, 8. cirkuszvölgy, 9. Szfínx-szikla, 10. ingókő, 11. kaldéra, 12. eolikus felszínformálás, 13. glaciális felszínformálás, 14. tengervíz felszínformálása



4. Szövegértési feladat. Saját ismereteid és a szöveg alapján válaszolj a kérdésekre!

7p/

*„Sokan még a mai napig is azt hiszik, hogy ha Globus-t vásárolnak, védik a hazai termékeket, magyar termelőktől vásárolnak, magyar dolgozók munkahelyének megtartását segítik elő. De ez nem igaz. Valaha a Globus magyar termék, megbízható hazai minőség volt. 2009 óta azonban a termékek gyártása nem Magyarországon történik, ráadásul még a márkanévet is eladták a cseh Hamé-nak, mely azóta is gyártja és forgalmazza a Globus név alatt futó termékeket. A brand megmentése, a márka magyar kézben tartása senkinek sem állt érdekében, miként az sem, hogy az üresen álló gyárkomplexum rekultivációja megkezdődjön. Weiss Manfréd és Bertold 1882-ben a budapesti Lövölde téren alapított húsfeldolgozó üzemet. Három évvel később a Soroksári útra költözve már Weiss Manfréd Első Magyar Konzerv- és Ércárugyár néven "polgári vásárlók számára zártak tartósított húst szelencébe. Magát a Globus márkanévet 1924-ben jegyeztették be.”*



Milyen gazdasági ágazathoz tartozik a Globus?.....

Mikor jött létre a márkát kitaláló cég?..... Hol?.....

Milyen téveszmék kapcsolódnak hozzá napjaink köztudatában?

1.....

2.....

3.....

Lehet-e hungarikum a Globus? Indokold a válaszod!

.....  
 .....